

## 23 - mavzu: Tekislikning koordinatalar sistemasiga nisbatan vaziyatini tekshirish. Ikkita va uchta tekislikning o'zaro joylashuvi. Tekisliklar dastasi va bog'lami.

Reja:

1. Tekislikning koordinatalar sistemasiga nisbatan vaziyatini tekshirish
2. Ikkita va uchta tekislikning o'zaro joylashuvi.
3. Tekisliklar dastasi va bog'lami.

### Koordinatalar sistemasiga nisbatan tekislikning joylashishi

Bizga

$$ax + by + cz + d = 0 \quad (1)$$

tekislik berilgan bo'lsin. Quyidagi hollarni qaraymiz:

( $\vec{n}$  vector berilgan tekislikning normal vektori bo'lsin).

1.  $a = 0, b = 0$ . Bu holatda  $\vec{n}$  vektor  $z$  o'qiga parallel bo'ladi. Ya'ni (1) tekislik  $xy$  tekisligiga parallel bo'ladi va  $d = 0$  bo'lsa,  $xy$  tekisligi bilan ustma-ust tushadi.
2.  $b = 0, c = 0$ . Bu holatda (1) tekislik  $yz$  tekisligiga parallel bo'ladi va  $d = 0$  bo'lsa,  $yz$  tekisligi bilan ustma-ust tushadi.
3.  $a = 0, c = 0$ . Bu holatda (1) tekislik  $xz$  tekisligiga parallel bo'ladi va  $d = 0$  bo'lsa,  $xz$  tekisligi bilan ustma-ust tushadi.
4.  $a = 0, b \neq 0, c \neq 0$ . Bu holatda  $\vec{n}$  vector  $x$  o'qiga perpendikulyar bo'ladi. Ya'ni (1) tekislik  $x$  o'qiga parallel bo'ladi va  $d = 0$  bo'lsa,  $x$  o'qidan o'tadi.
5.  $a \neq 0, b = 0, c \neq 0$ . Bu holatda (1) tekislik  $y$  o'qiga parallel bo'ladi va  $d = 0$  bo'lsa,  $y$  o'qidan o'tadi.
6.  $a \neq 0, b \neq 0, c = 0$ . Bu holatda (1) tekislik  $z$  o'qiga parallel bo'ladi va  $d = 0$  bo'lsa,  $z$  o'qidan o'tadi.
7.  $d = 0$  holida (1) tekislik koordinata boshidan o'tadi.

Agar (\*) tekislikning barcha koeffisientlari noldan farqli bo'lsa tenglikning ikkala tomonini  $-d$  ga bo'lish mumkin. Natijada

$$\frac{-d}{a} = \alpha, \quad \frac{-d}{b} = \beta, \quad \frac{-d}{c} = \gamma$$

(1) tenglamani quyidagi ko'rinishda yozish mumkin.

$$\frac{x}{\alpha} + \frac{y}{\beta} + \frac{z}{\gamma} = 1 \quad (*)$$

$\alpha, \beta, \gamma$  sonlar tekislikni koordinata o'qlari bilan kesishishidan hosil bo'lgan kesmalarga teng.

Haqiqatdan ham tekislik  $x$  o'qini ( $y = 0, z = 0$ ) ( $\alpha, 0, 0$ ) nuqtada,  $y$  o'qini ( $x = 0, z = 0$ ) ( $0, \beta, 0$ ) nuqtada,  $z$  o'qini ( $x = 0, y = 0$ ) ( $0, 0, \gamma$ ) nuqtada kesib o'tadi.

Agar tekislik  $xy$  tekisligiga perpendikulyar bo'lmasa ( $c \neq 0$ ) tekislikni quydagicha tenglama bilan yozish mumkin.

$$z = px + qy + l$$

Misollar:

1. Quyidagi tekislik  $x(y, z)$  o'qining musbat yo'nalishi bilan kesishish shartini toping.

$$ax + by + cz + d = 0$$

2.  $ax + by + cz + d = 0$  tekislik koordinata o'qlari bilan kesishishidan hosil bo'lgan tetraedrning hajmini toping.

3. Quyidagi sakkizta  $|x| + |y| + |z| = a$  tekisliklarning kesishishidan hosil bo'lgan figuraning oktaedr ekanini ko'rsating va uning markazi koordinatalar boshida joylashganini isbotlang.

## Tekisliklarning o'zaro vaziyati

Faraz qilaylik bizga ikkita

$$\begin{cases} a_1x + b_1y + c_1z + d_1 = 0 \\ a_2x + b_2y + c_2z + d_2 = 0 \end{cases} \quad (*)$$

Tekisliklar berilgan bo'lsin.

Qanday shart bajarilganda bu tekisliklar: a) parallel b) perpendikulyar bo'lish shartini topaylik.

Ikkita tekislik parallel bo'lishi uchun ularning mos normal vektorlari  $\vec{n}_1, \vec{n}_2$  parallel bo'ladi. Bundan tekisliklarning parallellik sharti

$$\frac{a_1}{a_2} = \frac{b_1}{b_2} = \frac{c_1}{c_2}$$

kelib chiqadi.

Ikkita tekislik perpendikulyar bo'lishi uchun ularning mos normal vektorlari  $\vec{n}_1, \vec{n}_2$  perpendikulyar bo'ladi. Bundan tekisliklarning perpendikulyarlik sharti

$$\vec{n}_1 \vec{n}_2 = 0 \text{ yoki } a_1a_2 + b_1b_2 + c_1c_2 = 0$$

kelib chiqadi.

Tekisliklar orasidagi burchakni topish formulasini keltirib chiqaraylik.

$\theta$  orqali  $\vec{n}_1$  va  $\vec{n}_2$  vektorlar orasidagi burchakni belgilasak ikkita tekislik orasidagi burchak ham  $\theta$  ga teng bo'ladi.

$$\vec{n}_1 \vec{n}_2 = |\vec{n}_1| |\vec{n}_2| \cos \theta$$

ekanidan quyidagi formula kelib chiqadi.<sup>1</sup>

$$\cos \theta = \frac{a_1a_2 + b_1b_2 + c_1c_2}{\sqrt{a_1^2 + b_1^2 + c_1^2} \cdot \sqrt{a_2^2 + b_2^2 + c_2^2}}$$

---

<sup>1</sup> Csaba Vincze and Laszlo Kozma 'College Geometry' March 27, 2014 pp 218-220, mazmun – mohiyatidan foydalanildi

## Ikkita va uchta tekislikning o'zaro vaziyatlari.

### 1. Ikkita tekislikning o'zaro vaziyati.

Biror affin koordinatalar sistemasiga nisbatan  $T_1$  va  $T_2$  tekisliklar o'zining tenglamalari bilan berilgan bo'lsin.

$$T_1 : A_1 x + B_1 y + C_1 z + D_1 = 0 \quad (14.1)$$

$$T_2 : A_2 x + B_2 y + C_2 z + D_2 = 0 \quad (14.2)$$

Bu tekisliklarning o'zaro vaziyatlarini tekshiraylik.  $T_1$  va  $T_2$  tekisliklarning har bir umumiy nuqtasining koordinatalari (14.1) va (14.2) tenglamalar sistemasining yechimlari bo'ladi. Aksincha tenglamalar sistemasining har bir yechimi  $T_1$  va  $T_2$  tekisliklarning umumiy nuqtalarining koordinatalari bo'ladi.

Shunday qilib, ikkita tekislikning o'zaro vaziyatlarini tekshirish masalasi (14.1), (14.2) chiziqli tenglamalar sistemasini tekshirish masalasiga keltiriladi. Quyidagi matritsalarini tuzib olamiz:

$$M = \begin{pmatrix} A_1 & B_1 & C_1 \\ A_2 & B_2 & C_2 \end{pmatrix}, \quad M' = \begin{pmatrix} A_1 & B_1 & C_1 & D_1 \\ A_2 & B_2 & C_2 & D_2 \end{pmatrix}$$

$M$  matritsa rangini  $r$  bilan belgilab, asosiy matritsa,  $M'$  matritsa rangini  $r'$  bilan belgilab kengaytirilgan matritsa deb aytiladi.  $r \leq r'$  bo'lishi ravshan.

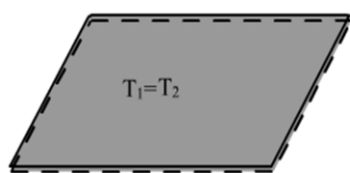
Bu yerda tekisliklar quyidagi hollarda bo'lishi mumkin.

1)  $r'=1$  bo'lsa,  $T_1$  va  $T_2$  tekisliklarning koeffitsiyentlari va ozod hadlari proporsional bo'ladi.

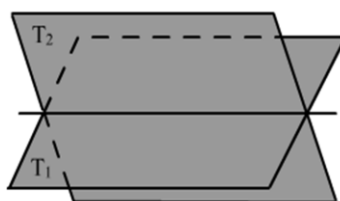
$$A_1 = \lambda A_2, \quad B_1 = \lambda B_2, \quad C_1 = \lambda C_2, \quad D_1 = \lambda D_2 \quad (14.3)$$

Bu holda (14.1) va (14.2) tenglamalar teng kuchli bo'ladi. Ular bitta tekislikni ifodalaydi, ya'ni  $T_1$  va  $T_2$  tekisliklar ustma-ust tushadi (133-chizma).

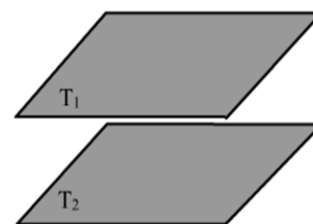
2)  $r=r'=2$ . Bunda  $T_1$  va  $T_2$  tekisliklar har xil (ular ustma-ust tushishi mumkin emas, chunki  $r'>1$ ). Demak  $T_1$  va  $T_2$  tekisliklar kamida bitta umumiy nuqtaga ega,



133-chizma



134-chizma



135-chizma

shuning uchun ular to'g'ri chiziq bo'ylab kesishadi (134-chizma).

3)  $r'=2$ ,  $r=1$ . (14.1) va (14.2) tenglamalar sistemasini yechimga ega emas, shuning uchun  $T_1$  va  $T_2$  tekisliklar umumiy nuqtaga ega emas. Demak, tekisliklar kesishmaydi, (135-chizma).

$$A_1 = \lambda A_2, \quad B_1 = \lambda B_2, \quad C_1 = \lambda C_2 \quad (14.4)$$

(43) shart tekisliklarning ustma-ust tushish sharti (44) shart esa tekisliklarning parallel sharti.

### 2. Uchta tekislikning o'zaro vaziyati.

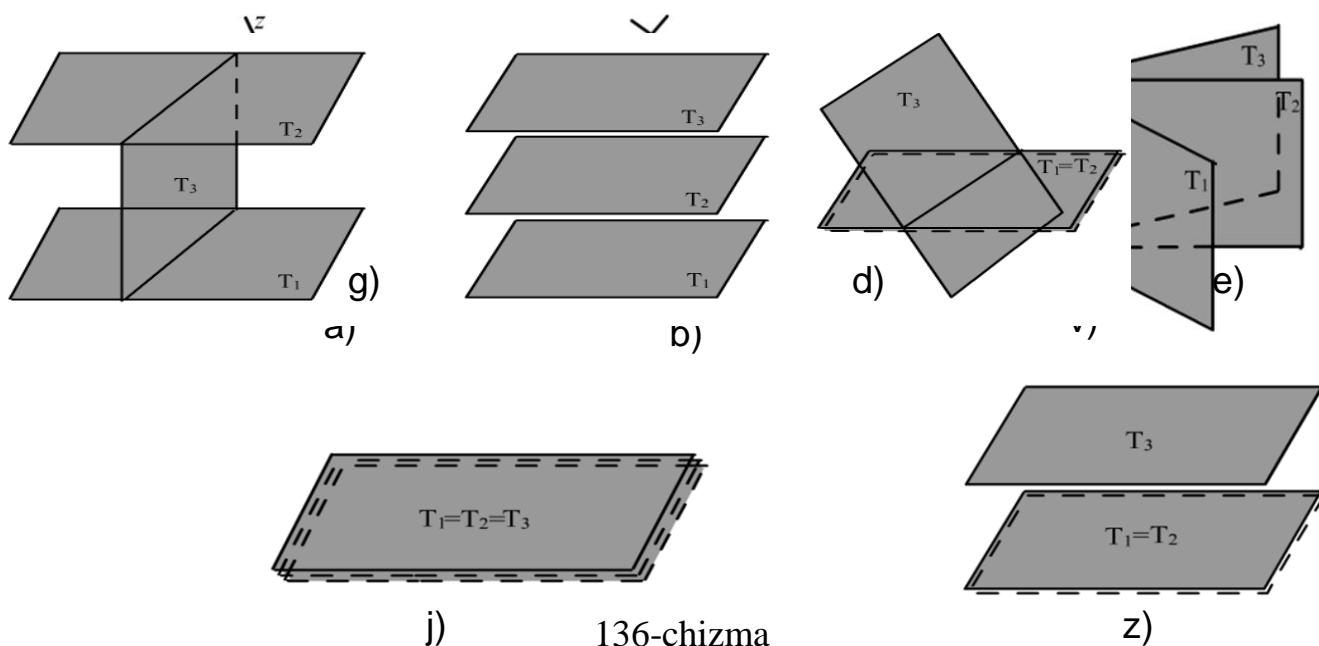
Biror affin koordinatalar sistemasida  $T_1$ ,  $T_2$  va  $T_3$  tekisliklar o'zlarining umumiy tenglamalari bilan berilgan bo'lsin.

$$\begin{aligned} T_1 : A_1 x + B_1 y + C_1 z + D_1 &= 0 \\ T_2 : A_2 x + B_2 y + C_2 z + D_2 &= 0 \\ T_3 : A_3 x + B_3 y + C_3 z + D_3 &= 0 \end{aligned} \quad (14.5)$$

Berilgan tenglamalarning koeffitsiyentlaridan quyidagi matritsalarini tuzamiz.

$$M = \begin{pmatrix} A_1 & B_1 & C_1 \\ A_2 & B_2 & C_2 \\ A_3 & B_3 & C_3 \end{pmatrix}, \quad M' = \begin{pmatrix} A_1 & B_1 & C_1 & D_1 \\ A_2 & B_2 & C_2 & D_2 \\ A_3 & B_3 & C_3 & D_3 \end{pmatrix}$$

Bu tekisliklarning quyidagi sakkizta hollardan bir bo'lishini chizmalar orqali ko'rsatamiz (31-chizma).



136-chizma

- a)  $T_1, T_2, T_3$  tekisliklar bitta umumiy nuqtaga ega  $r = r' = 3$  (136, a-chizma).
- b)  $T_1, T_2, T_3$  tekisliklar juft-jufti bilan kesishadi, lekin umumiy nuqtasi mavjud emas  $r = 2, r' = 3$  (136, b-chizma).
- v)  $T_1, T_2, T_3$  tekisliklar bir to'g'ri chiziqdan o'tib har xildir  $r = 2, r' = 2$  (136, v-chizma).
- g) Bu tekisliklarning ikkitasi parallel, uchinchi ularni kesadi  $r = 2, r' = 3$  (136. g-chizma).
- d) Uchchala tekislik o'zaro parallel  $r = 1, r' = 2$  (136.d-chizma).
- e) Ikkita tekislik ustma-ust tushadi, uchinchi esa ularni kesadi  $r = 1, r' = 2$  (136.e-chizma).
- j) Hamma tekisliklar ustma-ust tushadi  $r = 1, r' = 1$  (136.j-chizma).
- z) Ikkita tekislik ustma-ust tushadi, uchinchi esa ularga parallel  $r = 1, r' = 2$  (136.z-chizma).

## Tekisliklar dastasi va bog'lami.

Kesishuvchi ikkita  $T_1, T_2$  tekisliklar ushbu

$$T_1: A_1 x + B_1 y + C_1 z + D_1 = 0$$

$$T_2: A_2 x + B_2 y + C_2 z + D_2 = 0$$

tenglamalar bilan berilgan bo'lsin, bunda  $M$  - matritsa rangi 2 ga teng. demak, bu tekisliklar  $d$  to'g'ri chiziq bo'ylab kesishadi.  $T_1$  tekislik tenglamasini  $\lambda \neq 0$  ga ko'paytirib,  $T_2$  tekislik tenglamasini  $\mu \neq 0$  ko'paytirib qo'shamiz.

$$\lambda(A_1 x + B_1 y + C_1 z + D_1) + \mu(A_2 x + B_2 y + C_2 z + D_2) = 0$$

yoki

$$(\lambda A_1 + \mu A_2)x + (\lambda B_1 + \mu B_2)y + (\lambda C_1 + \mu C_2)z + \lambda D_1 + \mu D_2 = 0. \quad (15.2)$$

Bu yerda  $x, y, z$  koeffitsiyentlardan kamida biri noldan farqli, aks holda  $\lambda A_1 + \mu A_2 = 0, \lambda B_1 + \mu B_2 = 0, \lambda C_1 + \mu C_2 = 0$  bo'lsa, bulardan

$$\frac{A_1}{A_2} = \frac{B_1}{B_2} = \frac{C_1}{C_2} = -\frac{\mu}{\lambda} \quad (15.3)$$

bo'lib,  $M$  - matritsa rangi 2 dan kichik bo'lardi. Bu berilishga ziddir. Demak, (15.1) tenglama biror  $T$  tekislik tenglamasi bo'ladi.  $d$  to'g'ri chiziq har bir nuqtasining koordinatalari (15.2) tenglamalar sistemasini qanoatlantirgani uchun, (15.2) tenglamani ham qanoatlantiradi.

$\lambda, \mu$  parametrning har bir qiymatiga  $d$  to'g'ri chiziqdan o'tuvchi bitta tekislikni ifoda qiladi.

Ta'rif. Fazodagi ixtiyoriy  $d$  to'g'ri chiziq orqali o'tuvchi barcha tekisliklar to'plamini tekisliklar dastasi deyiladi.  $d$  to'g'ri chiziq dasta o'qi, (15.2) tenglamani dasta tenglamasi deyiladi.

Ma'lumki,  $d$  dasta o'qida yotmaydigan fazoning ixtiyoriy nuqtasidan dastaning faqat bitta tekisligi o'tadi. 31, v-chizmaga e'tibor bering.

Fazodagi biror  $T$  tekislikka parallel bo'lgan barcha tekisliklar to'plamini parallel tekisliklar dastasi deyiladi. 31, d-chizmaga e'tibor bering.

Berilgan  $T: Ax + By + Cz + D = 0$  tekislikka parallel bo'lgan barcha tekisliklar to'plami tenglamasi ushbu

$$Ax + By + Cz + \lambda = 0 \quad (15.4)$$

ko'rinishda yoziladi.  $\lambda$  ning har bir qiymatida berilgan tekislikka parallel tekislik hosil bo'ladi. Agar  $\lambda = D$  bo'lsa,  $T$  tekislikning o'zi hosil bo'ladi.

Fazoning har bir nuqtasi orqali dastaning faqat bitta tekisligi o'tadi.

Ta'rif. Fazodagi  $M_0$  nuqtadan o'tuvchi barcha tekisliklar to'plamini tekisliklar bog'lami deyiladi.  $M_0$  nuqta bog'lam markazi deyiladi.

Bog'lam markazining berilishi bilan to'liq aniqlanadi.

Markazi  $M_0(x_0, y_0, z_0)$  nuqtada bo'lgan bog'lam tenglamasini tuzaylik.

$T_1: A_1 x + B_1 y + C_1 z + D_1 = 0$  tekislik  $M_0$  nuqtadan o'tadi.  $A x_0 + B y_0 + C z_0 + D = 0$  bu tengliklardan ushbuni

$$A(x - x_0) + B(y - y_0) + C(z - z_0) = 0 \quad (15.5)$$

tenglamani hosil qilamiz. Bu  $M_0$  nuqtadan o'tuvchi tekislik tenglamasi.  $A, B, C$  larning kamida bittasi noldan farq qiladi.

Bu koeffitsiyentlarning har bir qiymatiga  $M_0$  nuqtadan o'tuvchi tekislik mos keladi. Shuning uchun (15.5) tenglamani markazi  $M_0$  nuqta bo'lgan tekisliklar bog'lami tenglamasi deyiladi.

Markaziy bog'lam bir nuqtada kesishuvchi uchta tekislikning berilishi bilan to'liq aniqlanadi (31, a-chizma).

$$T_1 : A_1 x + B_1 y + C_1 z + D_1 = 0$$

$$T_2 : A_2 x + B_2 y + C_2 z + D_2 = 0$$

$$T_3 : A_3 x + B_3 y + C_3 z + D_3 = 0$$

tekisliklar berilgan bo'lsin.

$$\alpha(A_1 x + B_1 y + C_1 z + D_1) + \beta(A_2 x + B_2 y + C_2 z + D_2) + \gamma(A_3 x + B_3 y + C_3 z + D_3) \quad (15.6)$$

uchta tekislik bilan berilgan bog'lam tenglamasi.

Ta'rif. Fazodagi aniq bir  $d$  to'g'ri chiziqqa parallel barcha tekisliklar to'plami parallel tekisliklar bog'lami yo'ki markazsiz bog'lam deyiladi.

$d$  to'g'ri chiziqni bog'lam yo'naltiruvchisi deyiladi.

Markazsiz bog'lam  $d$  to'g'ri chiziqning berilishi bilan to'liq aniqlaniladi.